
	<div style="display: flex; justify-content: space-between;"> Ficha de Avaliação Diagnostica de Geografia 10º ano </div> <div style="text-align: center; margin: 10px 0;"> A POSIÇÃO DE PORTUGAL NA EUROPA E NO MUNDO </div> <div style="display: flex; justify-content: space-between;"> NOME: Nº: </div>
---	--

Tarefa 1 - A constituição do território nacional - A posição geográfica de Portugal

Consulte o sítio do Instituto Geográfico Português - <http://www.igeo.pt/>



- a) Seleccione  b) Escolha a opção **Mapas Interactivos**

1.1. Identifique as unidades territoriais que constituem o território nacional.

1.2. Localize **Portugal Continental** relativamente:

- à Madeira: _____ - aos Açores: _____

1.3. Indique a localização de **Portugal** na Península Ibérica, na Europa e no Mundo.


(NOTA: Em caso de dúvida acede ao GoogleEarth)

1.4. Altere a escala do mapa (ex: 1:500 000 / 1:5 000 000), actualize o mapa e explique as diferenças observadas. _____

1.5. Identifique as ilhas dos arquipélagos dos Açores e da Madeira.

AÇORES	ILHAS
Grupo Ocidental	
Grupo Central	
Grupo Oriental	
MADEIRA	

- Na legenda, active “Concelhos dos Açores” e “Concelhos da Madeira” - Actualize o mapa.

- Com o botão identificador  clique sobre a ilha que pretende identificar. Abre-se uma janela com informações que o ajudarão a cumprir a tarefa.

Tarefa 2 DIVISÕES ADMINISTRATIVAS DE PORTUGAL


*“Ao longo dos anos, Portugal tem passado por várias e diferentes divisões territoriais, como a **divisão administrativa**. Esta é constituída por três níveis hierárquicos, o **distrito**, o **concelho** ea **freguesia**.”*

a) Aceda ao site <http://snig.igeo.pt/website/atlas/viewer.htm>

b) No menu do lado direito (Layers), torne visível ☒ e active ☐ apenas **Distritos Continente** (coloque um V em visible e um ponto em active)

– Faça refrescar mapa (refresh map)

c) Identifique os distritos de Portugal Continental


d) Confirme/corrija o quadro, consultando a legenda  (menu ferramentas - lado esquerdo)

e) Seleccione o distrito de Braga, usando o icon  (select by rectangle) nas ferramentas

f) Volte a Layers, torne visível ☒ **Distritos Continente e Concelhos Continente-** Active Concelhos ☐

– Faça refrescar mapa (refresh map)

g) Identifique os 14 concelhos que compõem o distrito de Braga:

Se accionar o icon  (identify) e clicar sobre cada concelho, aparece a identificação no quadro

h) Integre a Escola Secundária Alberto Sampaio nas diferentes divisões administrativas.

	DISTRITO	CONCELHO	FREGUESIA
ESAS			

Tarefa 3 NUT – Nomenclatura de Unidade Territorial

“As **NUTS** (Nomenclaturas de Unidades Territoriais - para fins Estatísticos) designam as subregiões estatísticas em que se divide o território dos países da União Europeia, incluindo o território português. De acordo com o Regulamento (CE) n.º 1059/2003 do Parlamento Europeu e do Conselho de 26 de Maio de 2003, relativo à instituição de uma Nomenclatura Comum das Unidades Territoriais Estatísticas (NUTS), estas estão subdivididas em 3 níveis: **NUTS I**, **NUTS II** e **NUTS III**. “

3.1. Complete as seguintes frases:

- **NUT I** (nível I)- corresponde ao nível nacional: Portugal (continente e regiões autónomas)
- **NUT II** (nível II)- corresponde ao nível _____ e integra _____ regiões.
- **NUT III** (nível III) – corresponde ao nível _____ e integra _____ regiões no continente mais as regiões autónomas.

3.2. Identifique as regiões da Nut II.

3.3. Integre a Escola Secundária Alberto Sampaio nas NUT.

	NUT I	NUT II	NUT III
ESAS			

Para o auxiliar na resolução desta tarefa siga as seguintes instruções:

1. Consulte o sítio do Instituto Geográfico Português - <http://www.igeo.pt/>




- 2- Seleccione

- 3- Escolha a opção **Mapas Interactivos**


- 4- Na legenda, active “NUT 2”

- Actualize o mapa (em actualizar mapa).

- Com o botão identificador  clique sobre a região que pretende identificar. Abre-se uma janela com informações que o ajudarão a cumprir a tarefa.

- 5- Na legenda, active “NUT 3”

- Actualize o mapa (em actualizar mapa). – Faça zoom+ sobre o continente

- Com o botão identificador  clique sobre a região que pretende identificar. Abre-se uma janela com informações que o ajudarão a cumprir a tarefa.