

Ficha de Trabalho – visita virtual a 2 CBD's

1. Navega na internet até à seguinte página <http://maps.google.pt> e procede da seguinte maneira:

- Escreve **parque das nações** e clica em **pesquisar mapas**.

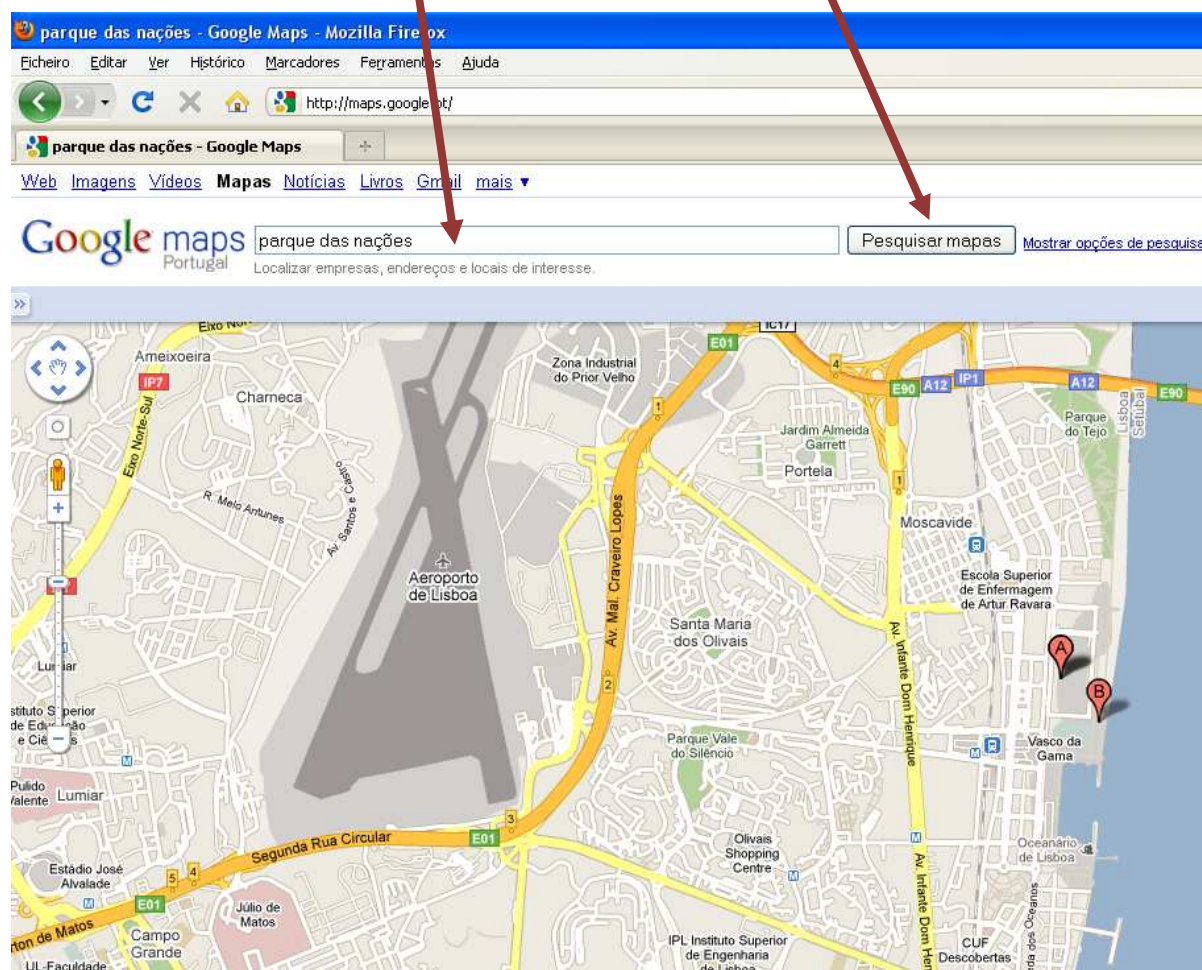
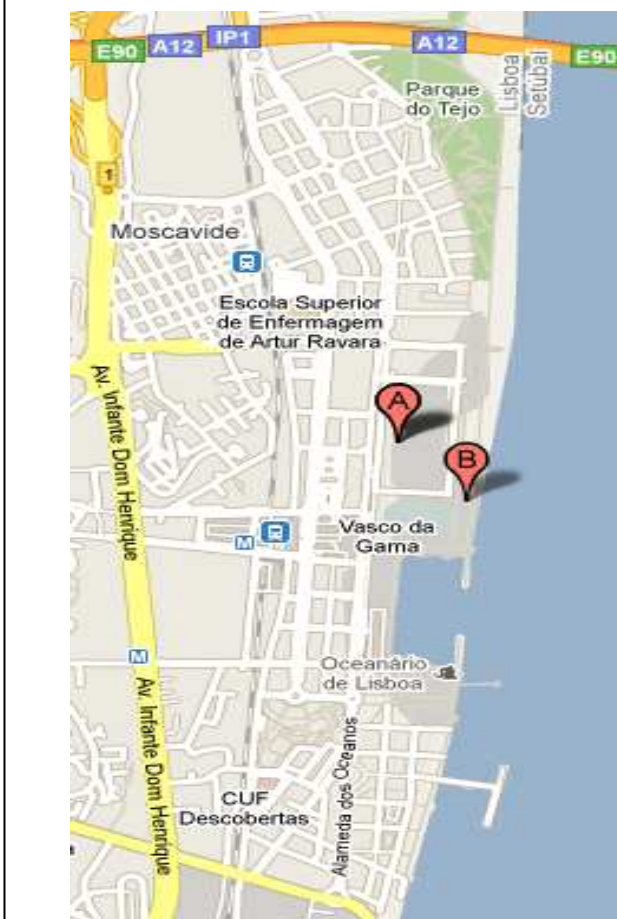


Figura 1 – Pesquisa do Parque das Nações no Google Maps

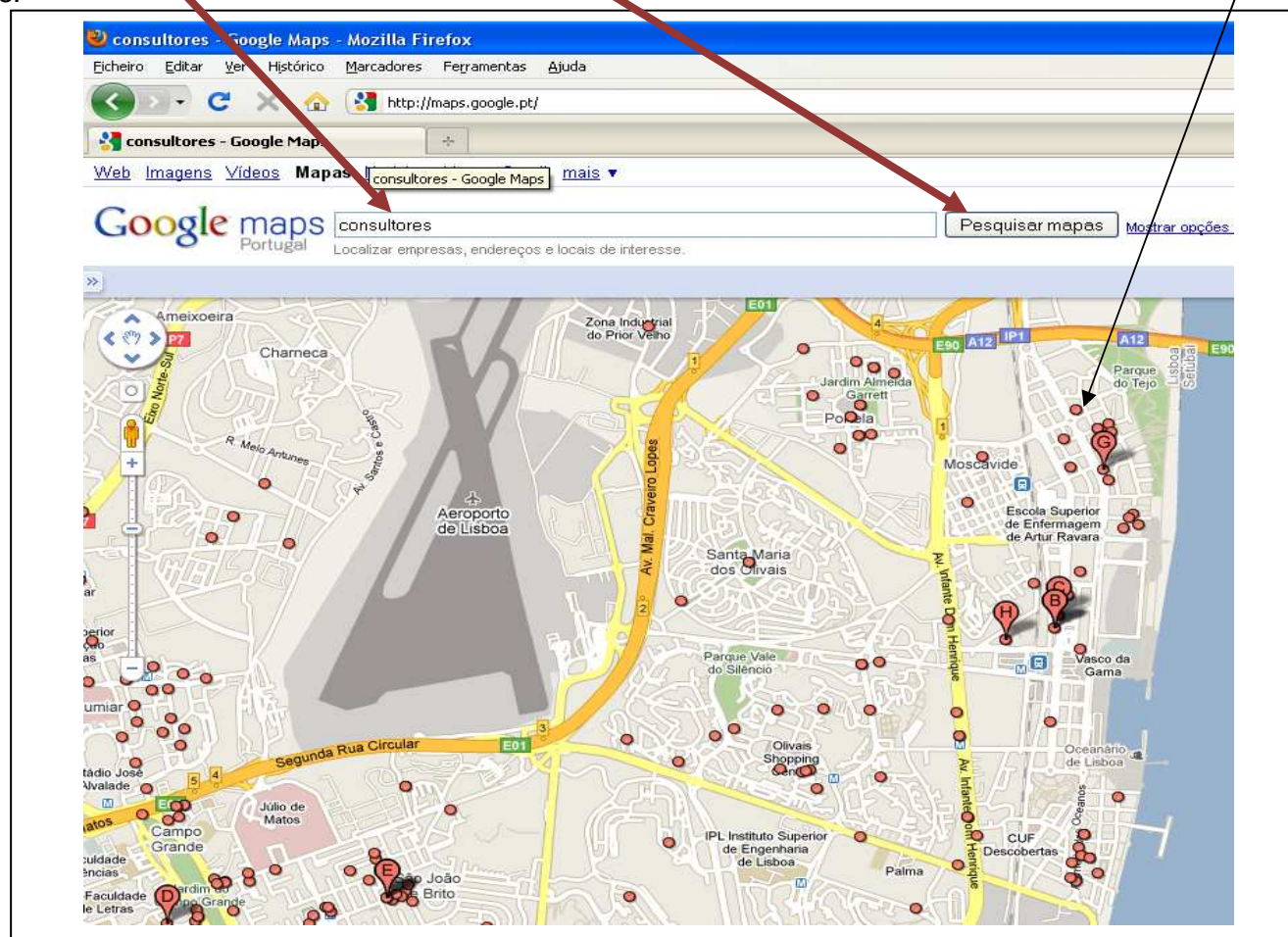
Figura 2 – Parque das Nações



Tem em atenção que a área em estudo será a que está representada na figura 2, com excepção do bairro de Moscavide.

2. Sempre com o Google Maps aberto no Parque das Nações procede da seguinte maneira:

- na caixa escreve o tipo de actividade, exemplo: **consultores**. Clica em **pesquisar mapas** Depois **conta o número de consultores** (“bolinhas encarnadas”) existentes no Parque das Nações.
- **preenche o quadro nº. 1.**
- Faz o mesmo para as restantes actividades indicadas no quadro 1.



Actividades	Parque das Nações	Amadora (centro)
consultores		
Internet - serviços		
Hipermercado		
Engomadorias		
Hotéis		
Policlinicas		
Bancos		
Equipamentos culturais		
Ginásios		
Publicidade – Agências e Serviços		

Quadro nº. 1

3. Faz da mesma maneira para o Centro da Amadora cujos limites são:

Norte: Av. General Humberto Delgado

Sul: Rua Elias Garcia, Estrada Salvador Allende e Rua Gonçalves Ramos;

Este: Av. Miguel Bombarda;

Oeste: Praça D. João I (Lido).

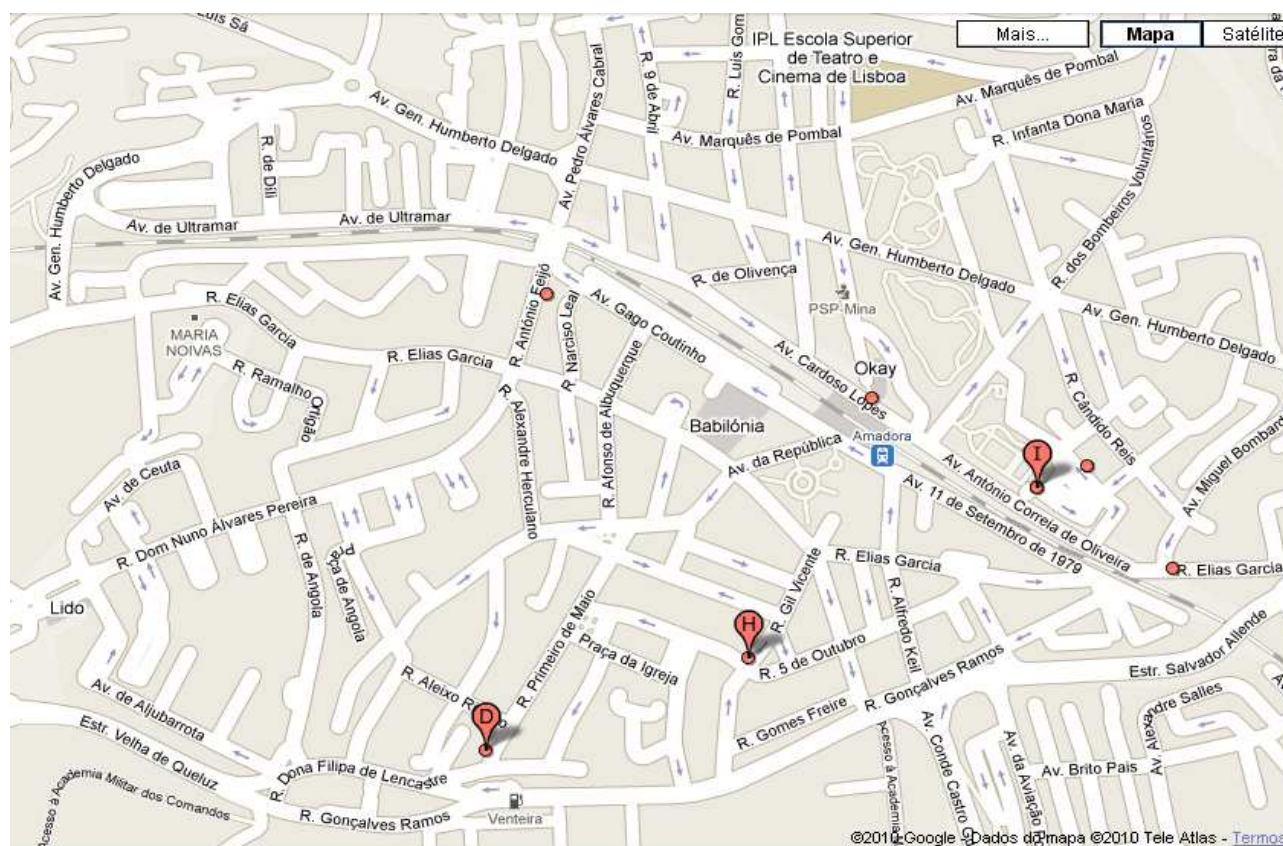


Figura 3 – Consultores no Centro da Amadora

Por exemplo, podes contar 7 actividades classificadas como “Consultores” no centro da Amadora. Com esse valor preenche o quadro 1, fazendo a mesma pesquisa para as restantes actividades.

4. Depois de preenchido todo o quadro nº 1, analisa os valores encontrados nos dois CBDs, Parque das Nações e centro da Amadora.

4.1. Enumera as três funções, de entre as estudadas, que estão em maior número no Parque das Nações

_____ e _____ e _____

4.2. Enumera as três funções, de entre as estudadas, que estão em maior número no centro da Amadora

_____ e _____ e _____

4.3. Classifica o grau de raridade das funções existentes no Parque das Nações e no centro Amadora.

4.4. Enumera duas possíveis razões para a diferença entre os dois CBDs.

_____ e _____

4.5. Pesquisa na seguinte página: <http://www.carris.pt/pt/mapa-interactivo/>

Mencione quantas carreiras de autocarro da Carris passam na Gare do Oriente: _____

Além da Carris, refere outros transportes que existem na Gare do Oriente (consulta a seguinte página electrónica:

http://www.portaldasnacoes.pt/index.php?option=com_content&view=category&layout=blog&id=38&Itemid=446&lang=pt)

4.4. Consulta a página electrónica do Parque das Nações: <http://www.portaldasnacoes.pt>

- Elabora um comentário sobre os factores que são importantes para a localização de funções mais raras.
